

1 Getallendictee



2 Schrijf deze getallen.

8TD 7D 4H 2T 9E → ...87.429...

9TD 6E → ...90.006....

4D 2H 5TD 8T → ...54.280.

9H 4TD 7E → ...40.907..

twintigduizend vierhonderdvijftig: ...20.450....



2TD 2D 2T 2E → ...22.022....



4TD 3H → ...40.300....

6TD 5D 3E 2H → ...65.203.


4D 4T → ...4.040...

zeventienduizend zevenhonderd: ...17.700...

3 Spring je mee het water op? Kijk en tel verder met de juiste sprong!



4 Het park staat vol bloemen!



Noteer de aantallen in de tabel.

HD	TD	D	H	T	E
...	1.	3.	4.	2.	0.
...	1.	0.	5.	6.	0.
...	1.	0.	6.	5.	0.
...	2.	5.	4.	5.	0.

Welke bloemen vind je er het minst?

...rozen.....

Rangschik de aantallen van groot naar klein:

..25.450.. > ..13.420.. > ..10.650.. > ..10.560..

5 Lees en vul in: < of >.

23 870 \geq 23 780

90 800 \leq 91 102

 13 400 \geq 10 400

15 250 \geq 12 550

73 333 \geq 37 333

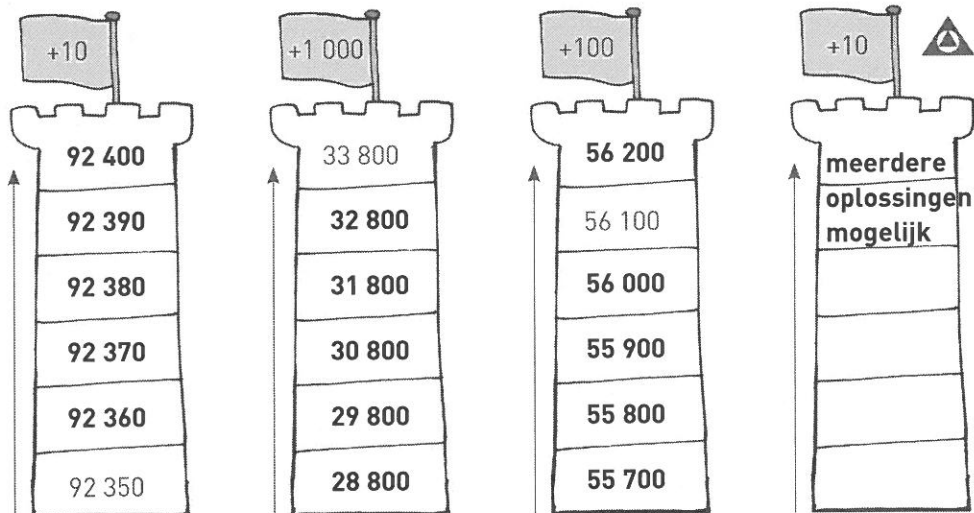
10 909 \geq 10 099

8 787 \leq 11 111

45 454 \leq 54 545

80 080 \geq 8 800

6 Raak jij tot boven?



Kies zelf het startgetal.

7 Hoe vond ik de dag in het pretpark?

Noteer de getallen. Zoek ze op in de sleutel en schrijf de juiste letter in het laatste vakje van elke rij.

Vorm met die letters een woord. Ik vond het**FANTASTISCH**.....!

6TD 4D 2H 3E64 203.....	→ A
De helft van 60 000 is30 000.....	→ F.
Tussen 36 490 en 36 492 ligt36 491.....	→ N
1HD100 000.....	→ S.
Net voor 100 000 komt99 999.....	→ T.
5 keer 3 000 is15 000.....	→ A
10 000 minder dan 80 000 is70 000.....	→ H
Het dubbel van 25 000 is50 000.....	→ .I.
3TD + 8D + 2H =38 200.....	→ T.
Net na 9 999 komt10 000.....	→ C
Precies in het midden tussen 44 440 en 44 450 ligt44 445.....	→ S.

sleutel	15 000 - A	90 000 - K	64 023 - E	44 445 - S	79 000 - V	30 000 - F
100 000 - S	1 000 - D	38 200 - T	3 820 - O	44 500 - N	36 491 - N	10 000 - C
45 000 - M	70 000 - H	5 000 - K	99 999 - T	50 000 - I	64 203 - A	3 000 - U

